



Name: \_\_\_\_\_ Klasse: \_\_\_\_\_

Datum: \_\_\_\_\_

1. Skizziere folgende flache Werkstücke mit der angegebenen Veränderung und schicke mir dein Ergebnis per Mail!



- a) Grundmaß: 55 x 35 x 6  
Art der Veränderung: Stufe unten links  
Formmaß: 20 x 10

- b) Grundmaß: 60 x 40 x 7  
Art der Veränderung: Stufe oben rechts  
Formmaß: 30 x 25





- c) Grundmaß: 55 x 60 x 10  
Art der Veränderung: Abschrägung unten rechts  
Formmaß: 10 x 15

- d) Grundmaß: 70 x 40 x 10  
Art der Veränderung: Abschrägung oben links  
Formmaß: 10 x 15



- e) Grundmaß: 30 x 65 x 7  
Art der Veränderung: Nut  
Lagemaß: 5 x 15  
Formmaß: 20 x 50

- f) Grundmaß: 50 x 70 x 6  
Art der Veränderung: Nut  
Lagemaß: 25 x 10  
Formmaß: 25 x 30



2. Ergänze folgende Lückentexte!

Flache Werkstücke haben eine Dicke von maximal \_\_\_\_ mm.

Die Stufe oder Abschrägung liegt immer an einer \_\_\_\_\_.

Im Gegensatz liegt die Nut immer an einer \_\_\_\_\_.

**Viel Erfolg!**